



# MECÁNICA RACIONAL



## SEGUNDA PARTE

DE LOS SISTEMAS MATERIALES

(Continuación)

### CAPÍTULO XII

DETERMINACION PRÁCTICA DEL CENTRO DE GRAVEDAD  
DE LOS CUERPOS.

Se ha demostrado más arriba (cap. II) que el centro de gravedad de un cuerpo es un punto geométrico, cuyas coordenadas son dadas por las fórmulas

$$(1) \quad \left\{ \begin{array}{l} M\xi = \sum mx \\ M\gamma = \sum mxy \\ M\zeta = \sum mz \end{array} \right.$$

Estas fórmulas son una consecuencia de la propiedad siguiente: si en todos los puntos de un cuerpo se aplican vectores paralelos, del mismo sentido i de magnitud proporcional a la masa del punto de aplicacion, la resultante del sistema de estos vectores pasa por el centro de gravedad, cualquiera que sea la direccion comun de los vectores.

En varios casos, el cuerpo considerado es la reunion de  $n$  cuerpos, cuyos centros de gravedad son conocidos; se puede entónces aprovechar esta circunstancia para simplificar el problema.

En efecto, la resultante de un sistema de vectores paralelos no cambia cuando se reemplazan algunos grupos de vectores por su resultante parcial, luego, en el caso considerado, podemos reemplazar el cuerpo por un sistema de  $n$  vectores, aplicados en los centros de gravedad de los  $n$  cuerpos i de magnitud proporcional a las masas respectivas de estos cuerpos.

En resúmen, el problema se reduce a buscar el centro de gravedad de  $n$  puntos jeométricos, en los cuales se supone concentrada la materia de los  $n$  cuerpos; todavia este último problema se reduce a buscar, en dos direcciones diferentes, la resultante de  $n$  vectores paralelos.

### *Centro de gravedad de dos puntos*

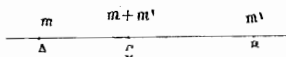
Sean  $A$  i  $B$  dos puntos,  $m$  i  $m'$  sus masas; se puede suponer que  $A$  i  $B$  son dos puntos jeométricos i  $m$  i  $m'$  las masas con-

centradas en ellos. El centro de gravedad estará situado sobre  $AB$ ; en efecto, se puede elegir  $AB$  como direccion comun de los dos vectores aplicados en  $A$  i  $B$ ; la resul-

tante i, por consiguiente tambien el centro de gravedad, estarán situados sobre esta recta.

Para determinar la posicion  $G$  del centro de gravedad, supondremos que la direccion comun de los dos vectores es perpendicular sobre  $AB$ ; la resultante pasará por el punto  $G$ . Es-

Fig. 41



presemos que su momento, respecto del punto  $G$ , es igual a la suma de los momentos de las componentes, tendremos

$$O = A G \times m - G B \times m'$$

O bien

$$(2) \quad \frac{A G}{m'} = \frac{G B}{m}$$

Se puede adoptar, como medida de cada vector, la medida misma de la masa del punto de aplicacion; la resultante será entónces igual a  $m + m'$ .

De ahí se deduce que, para determinar el centro de gravedad de un cuerpo o de un sistema de puntos, se pueden reemplazar dos puntos  $A$  i  $B$  de masa  $m$  i  $m'$  por un punto  $G$  de masa  $m + m'$ , el punto  $G$  está situado sobre  $A B$  i su posicion es definida por la relacion (2).

Inversamente, un punto  $G$  de masa  $m + m'$  es equivalente a dos puntos  $A$  i  $B$ , de masas  $m$  i  $m'$ ; los tres puntos  $A$ ,  $B$ ,  $G$ , están sobre una misma recta i su posicion respectiva es definida por la misma relacion (2).

### *Centro de gravedad de tres puntos*

Sean (fig. 42)  $A$ ,  $B$ ,  $C$  tres puntos de masa  $m$ ,  $m'$   $m''$ ; los dos puntos  $B$  i  $C$  pueden reemplazarse por el punto  $D$  de masa  $m' + m''$  i se tendrá

$$(3) \quad \frac{B D}{m''} = \frac{D C}{m'}$$

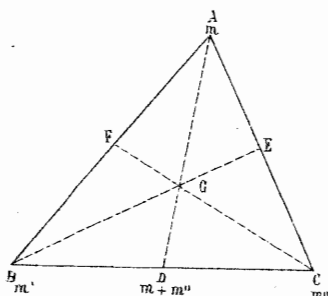
En seguida, los dos puntos  $D$  i  $A$  pueden reemplazarse por un punto  $G$  de masa  $m + m' + m''$  i se tendrá

$$(4) \quad \frac{D G}{m} = \frac{G A}{m' + m''}$$

El punto  $G$  así obtenido es el centro de gravedad buscado.

Si en vez de principiar por los puntos  $B$  i  $C$  se hubiera principiado por los puntos  $C$  i  $A$ , se hubiera obtenido de otra manera el mismo punto  $G$ , pues este centro de gravedad es único; de ahí se deducen algunas propiedades geométricas; en efecto, se tiene en la figura (42)

Fig. 42



$$\frac{EC}{m} = \frac{EA}{m''}$$

$$\frac{FA}{m'} = \frac{FB}{m}$$

Si se comparan estas dos relaciones con (3), se obtiene

$$BD \times EC \times FA = DC \times EA \times FB$$

De la relacion (4), comparada con (3), se deducen relaciones análogas.

#### Casos particulares

1.º Si las tres masas  $m$ ,  $m'$ ,  $m''$  son iguales, las rectas  $AD$ ,  $BE$ ,  $CF$  son las tres medianas del triángulo  $ABC$ , luego las tres medianas de un triángulo deben cortarse en un mismo punto; además la relacion (4) da entónces

$$\frac{DG}{m} = \frac{GA}{2m}$$

O bien

$$D G = \frac{1}{2} G A$$

2.º Si la masa de cada punto es proporcional a la longitud del lado opuesto, los rectos  $A D$ ,  $B E$ ,  $C F$  son las tres *bisectrices* del triángulo  $A B C$ , luego las tres bisectrices de un triángulo deben cortarse en un mismo punto.

*Centro de gravedad de puntos de misma masa uniformemente repartidos sobre un arco de circunferencia*

Sea (fig. 43)  $O$  el centro de la circunferencia i  $r$  su radio, el centro de gravedad se encontrará sobre el eje de simetría  $O X$ . En efecto, a cada punto situado a un lado de  $O X$ , corresponde otro de misma masa, simétrico del primero con respecto a  $O X$ ; los dos puntos considerados son equivalentes a un punto de masa doble, situado sobre  $O X$ ; finalmente, el centro de gravedad buscado es el de cierto número de puntos situados sobre  $O X$ , luego este centro estará, también sobre  $O X$ . Sea  $\xi$  la abcisa del centro de gravedad, respecto del orijen  $O$  se tendrá

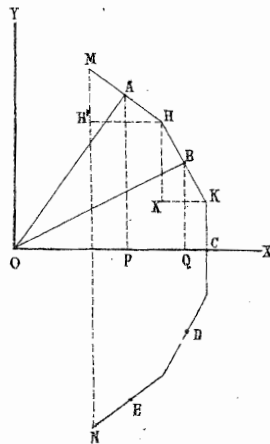
$$M \xi = \sum m x$$

En el caso considerado,  $m$  es constante para todos los puntos i  $M$  es igual a  $n$  veces  $m$ , luego

$$\xi = \frac{\sum x}{n}$$

Consideremos una porcion de polígono regular de  $n$  lados, circunscrito a la circunferencia de radio  $r$ , i tal que los puntos de masa  $m$  sean los puntos me-

Fig. 43



dios de los lados consecutivos. En la fig. (43) el primer lado de este polígono es  $MH$  i el primer punto de masa  $m$  es el punto  $A$  situado en el medio; la abcisa de este punto es  $OP$ ; unamos  $OA$  i por los puntos  $M$  i  $H$  tracemos  $MH'$ ,  $HH'$  paralelos a  $OY$  i  $OX$ ; los dos triángulos  $MHH'$  i  $AOP$  son semejantes i  $OA$  es igual a  $r$ , luego

$$\frac{OP}{r} = \frac{MH'}{MH}$$

Pasando al punto siguiente  $B$  tendremos tambien

$$\frac{OQ}{r} = \frac{HK'}{HK}$$

I así en seguida. Sea  $a$  la lonjitud comun de los lados del polígono circunscrito, tendremos

$$\Sigma x = OP + OQ \dots = \frac{r}{a} (MH' + HK' + \dots)$$

La espresion entre paréntesis es la lonjitud de la cuerda  $MN$  que cierra el polígono; sea  $c$  esta lonjitud, tendremos

$$\Sigma x = \frac{rc}{a}$$

Luego

$$\xi = \frac{rc}{na}$$

Sea todavía  $s$  el perímetro total de la porcion del polígono, se tendrá tambien

$$(5) \quad \xi = \frac{rc}{s}$$

#### CENTRO DE GRAVEDAD DE LAS LÍNEAS

Supongamos que se divide un cuerpo por una serie de planos paralelos infinitamente próximos, el centro de gravedad de la

materia contenida entre dos planos consecutivos estará situado entre los dos planos, puesto que se puede elegir la dirección común de los vectores paralela a los planos considerados; en el límite, estos centros de gravedad dibujaran en el espacio una curva continua i el centro de gravedad del cuerpo será el de esta línea jeométrica sobre la cual se puede suponer concentrada la materia de todo el cuerpo.

Segun esta definición, un elemento  $ds$  de la línea tendrá una masa  $\rho ds$  i  $\rho$  sea una cantidad determinada en cada punto de la línea.

Se tendrá en este caso, para la coordenada  $\xi$  del centro de gravedad

$$\xi = \frac{\sum \rho x ds}{\sum \rho ds}$$

Si  $\rho$  es constante, en todos los puntos de la línea, su valor representa la masa de la unidad de longitud i el valor de  $\xi$  se reduce a

$$(6) \quad \xi = \frac{\sum x ds}{s}$$

$s$  es la longitud total de la línea considerada. En lo que sigue supondremos siempre que las líneas son homogéneas, es decir que  $\rho$  es constante.

#### *Arco de circunferencia*

La (fig. 44)  $AB$  un arco de circunferencia,  $O$  su centro,  $r$  el radio,  $s$  la longitud del arco i  $c$  la longitud de la cuerda  $AB$ ; el centro de gravedad estará situado sobre el eje de simetría  $OX$ .

Referimos los puntos del arco a los ejes rectangulares  $OX$ ,  $OY$ ; sean  $x, y$ , las coordenadas de un punto  $M$  i  $\theta$  el ángulo  $MOX$  se tendrá

$$x = r \cos \theta$$

$$y = r \sin \theta$$

$$ds = r d\theta$$

Luego

$$x ds = r^2 \cos \theta d\theta = r dy$$

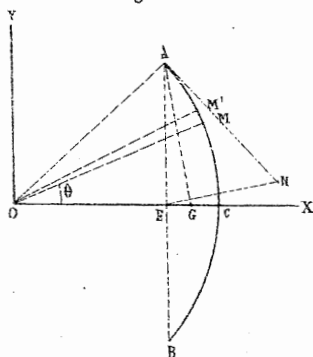
I tambien

$$\Sigma x ds = r \Sigma dy = rc$$

Luego, segun (6), la abcisa del centro de gravedad será

$$\xi = \frac{rc}{s}$$

Fig. 44



Es la misma fórmula obtenida mas arriba en el caso de  $n$  puntos de la misma masa, repartidos uniformemente sobre un arco de circunferencia; es bien evidente, en efecto, que los dos casos son análogos i que el perímetro del polígono circunscrito se confunde aquí con la longitud misma del arco.

#### Construcción gráfica

Sobre la tangente en  $A$  al arco  $ACB$  tomemos una longitud  $AN$  igual a la mitad del arco  $s$ , es decir, igual al arco  $AC$ ; unamos el punto medio  $E$  de la cuerda  $AB$  con  $N$  i bajemos desde  $A$ , una perpendicular sobre  $EN$ ; el punto  $G$  de intersección de esta perpendicular con  $OX$  es el centro de gravedad del arco; en efecto, se tiene en los triángulos semejantes  $AOG$  i  $AEN$ ,

$$\frac{OG}{OA} = \frac{AE}{AN}$$

O bien

$$OG = r \frac{c}{s}$$

#### Arco de cicloide

Consideremos (fig. 45) al arco de cicloide correspondiente a una vuelta completa del círculo generador; si  $r$  es el radio de



este círculo, la longitud total del arco es  $s = 8r$  el centro de gravedad  $G$  estará sobre una perpendicular  $AH$  en el medio de la base; sea  $\eta$  su distancia a  $OX$ , se tendrá

$$\eta = \frac{\sum y ds}{8r}$$

Se tiene ahora, en función del ángulo  $u$

$$y = r(1 - \cos u)$$

$$ds = 2r \sin \frac{u}{2} du$$

Luego

$$\sum y ds = 2r^2 \int_0^{2\pi} (1 - \cos u) \sin \frac{u}{2} du = \frac{32}{3} r^2$$

Finalmente

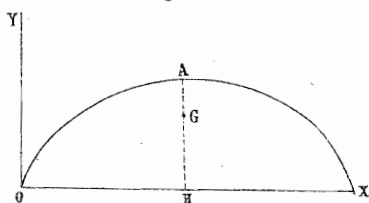
$$\eta = \frac{\frac{32}{3} r^2}{8r} = \frac{4}{3} r$$

Se ve que el centro de gravedad  $G$  está situado a los dos tercios de la altura a partir de la base.

### *Centro de gravedad del perímetro de un triángulo*

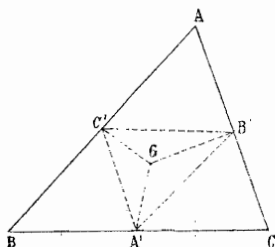
Sea (fig. 46) un triángulo  $ABC$ ; el centro de gravedad de cada lado está en el punto medio, luego el problema consiste en determinar el centro de gravedad de tres puntos cuyas masas son proporcionales a los lados correspondientes del triángulo; sean  $A', B', C'$  los puntos medios; en el triángulo  $A' B' C'$

Fig. 45



la masa de cada vértice es proporcional a la longitud del lado

Fig. 46



opuesto, luego el centro de gravedad  $G$  está en el punto de intersección de las bisectrices del triángulo  $A' B' C'$

*Centro de gravedad del perímetro de una porción de polígono regular.*

El centro de gravedad de cada lado está en su punto medio, es decir, sobre la circunferencia inscrita, luego el

problema consiste en determinar el centro de gravedad de  $n$  puntos de la misma masa, uniformemente repartidos sobre una circunferencia; sea entonces  $s$  el perímetro del polígono,  $c$  la cuerda y  $r$  el radio de la circunferencia inscrita, la abscisa del centro de gravedad será

$$\xi = \frac{rc}{s}$$

#### CENTRO DE GRAVEDAD DE LAS ÁREAS

Supongamos que se divide un cuerpo en una infinidad de prismas infinitamente delgados, el centro de gravedad de cada prisma estará situado en su interior  $i$ , en el límite, la sucesión de estos centros de gravedad dibujará, en el espacio, una superficie continua; el centro de gravedad del cuerpo será el de esta superficie sobre la cual se debe suponer concentrada la masa total del cuerpo.

Segun esta definición un elemento  $d\omega$  de área tendrá una masa  $\rho d\omega$  y  $\rho$  será una cantidad determinada en todos los puntos de la superficie.

Si  $\rho$  es constante, su valor representa la masa de la unidad de área; es este último caso que consideramos en lo que sigue; sea entonces  $\Omega$  el área total de una porción de superficie, se tendrá

$$\begin{aligned} \Sigma mx &= \rho \Sigma x d\omega \\ M &= \rho \Omega \end{aligned}$$

I, por consiguiente

$$(7) \quad \xi = \frac{\sum x d\omega}{\Omega}$$

### *Áreas planas*

El centro de gravedad está situado evidentemente en el plano. Si la figura tiene un *diámetro*, el centro de gravedad está situado sobre este diámetro; en efecto, se puede dividir el área por una serie de rectas, infinitamente próximas i paralelas a la dirección conjugada del diámetro considerado; el centro de gravedad de cada trapecio estará situado sobre el diámetro, luego el centro de gravedad del área se confunde, en el límite, con el centro de gravedad de una infinidad de puntos, de masas diferentes, situados sobre una misma recta; finalmente el centro de gravedad del área está sobre el diámetro considerado.

Si una figura plana tiene dos diámetros, el centro de gravedad del área está a la intersección de ellos. Así, por ejemplo, el centro de gravedad de un paralelogramo es su centro.

### *Triángulo*

Cada mediana es un diámetro del triángulo, luego el centro de gravedad está en la intersección de las tres medianas.

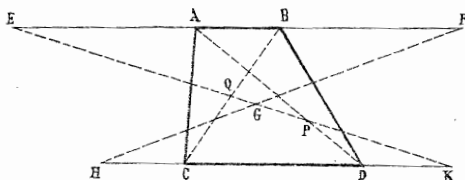
Se observa que este centro de gravedad es el mismo que el de tres puntos de la misma masa situados en los tres vértices del triángulo.

### *Trapecio*

Sea (fig. 47) un trapecio  $ABCD$ ; tracemos la diagonal  $BC$ ; dividiremos así el trapecio en dos triángulos, cuyas áreas son proporcionales a las bases  $AB=b$  i  $CD=B$  del trapecio. Si se conocieran los centros de gravedad de los dos triángulos, bastaría considerar, en estos puntos, dos masas proporcionales a  $b$  i  $B$  i buscar su centro de gravedad; ahora, un punto de masa  $3b$ , situado en el centro de gravedad del triángulo  $ABC$  es equivalente a tres puntos de masa  $b$ , situados en  $A$ ,  $B$  i  $C$ ; del mismo modo, un punto de masa  $3B$ , aplicado en el centro de

gravedad del triángulo  $BCD$ , es equivalente a tres puntos de masa

Fig. 47



situados en  $B, C, D$ ; tenemos así: 1.º en  $A$ , un punto de masa  $a$ , 2.º en  $B$  y  $C$  dos puntos de masa  $B+b$ , 3.º en

$D$  un punto de masa  $B$ . El centro de gravedad de estos cuatro puntos será el del trapecio.

Prolonguemos las dos bases paralelas i tomemos

$$\begin{aligned} AE &= BF = B \\ HC &= DK = b \end{aligned}$$

Los puntos, situados en  $A$  i  $D$ , pueden reemplazarse por un punto de masa  $B+b$ , situado en  $P$ , a la intersección de  $AD$  i  $EK$  i, del mismo modo, los dos puntos, situados en  $B$  i  $C$ , pueden ser reemplazados por un punto de masa  $2(B+b)$ , situado en  $Q$ , a la intersección de  $BC$  i  $EK$ ; finalmente, tendremos dos puntos situados sobre  $EK$ ; el centro de gravedad  $G$  estará sobre la misma recta; además se tendrá

$$PG = 2GQ$$

El punto  $G$ , se encontrará, por las mismas razones, sobre la recta  $HP$ , luego está a la intersección de  $FH$  i  $EK$ .

### Sector de polígono regular

Sean, como mas arriba,  $r$  el radio de la circunferencia inscrita,  $s$  el perímetro del polígono i  $c$  la longitud de la cuerda; se puede descomponer el polígono en triángulos que tienen un vér-

tice comun en el centro. Los centros de gravedad de estos triángulos estarán situados sobre una circunferencia de radio

$$r' = \frac{2}{3}r$$

Como estos centros están uniformemente repartidos sobre la circunferencia i simétricamente respecto de  $OX$ , la abcisa  $\xi$  del centro de gravedad será

$$\xi = r' \frac{c'}{s},$$

Ahora  $c'$  i  $s'$  son evidentemente los dos tercios de  $c$  i  $s$ , luego

$$(8) \quad \xi = \frac{2}{3} \frac{r c}{s^2}$$

#### *Sector de círculo*

El sector de círculo es el límite de un sector poligonal de un número infinito de lados infinitamente pequeños; la fórmula (8) se podrá aplicar directamente i se obtendrá también

$$\xi = \frac{2}{3} \frac{r c}{s}$$

La construcción gráfica será análoga al caso de la figura (44), i el centro de gravedad del sector será, respecto del centro  $O$ , a los dos tercios del centro de gravedad del arco.

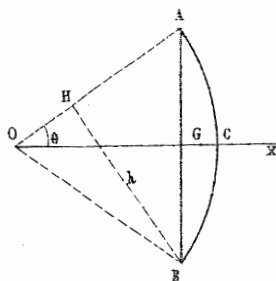
#### *Segmento de círculo*

El centro de gravedad estará todavía sobre el eje de simetría del segmento; sea  $\xi$  su abcisa respecto del centro  $O$ . El segmento  $ABC$  (fig. 48) es la diferencia entre el sector  $OACB$  i el triángulo  $OAB$ ; sean  $\xi'$  i  $\xi''$  las abcisas de los centros de gravedad del sector i del triángulo; si en los tres centros de gravedad, de abcisas  $\xi$ ,  $\xi'$ ,  $\xi''$ , se aplican vectores perpendiculares a

$OX$  de magnitudes proporcionales a las áreas del segmento, del sector i del triángulo, el vector aplicado en el centro de gravedad del sector será la resultante de los otros dos; tomemos los momentos respecto del punto  $O$  tendremos

$$\zeta' \times \text{área sector} = \zeta \times \text{área segm.} + \zeta'' \text{área triángulo.}$$

Fig. 48



Sea  $h$  la distancia de  $B$  al radio  $OA$ , se tiene

$$\text{área sector} = \frac{1}{2} r s$$

$$\text{área triáng.} = \frac{1}{2} r h$$

$$\text{área segm.} = \frac{1}{2} r (s-h)$$

Luego, si se suprime el factor comun  $\frac{1}{2} r$ ,

$$s \zeta' = (s-h) \zeta + h \zeta''$$

Ahora

$$\zeta' = \frac{2}{3} \frac{rc}{s}$$

$$\zeta'' = \frac{2}{3} \frac{hr}{c}$$

Luego

$$\zeta = \frac{2}{3} \frac{r}{c} \frac{c^2 - h^2}{s - h}$$

Espresemos en funcion del ángulo  $AOB$  que supondremos igual a  $2\theta$ ; tendremos las siguientes fórmulas:

$$\text{Abcisa del centro de gravedad del arco } AB: \xi = r \frac{\text{sen}\theta}{\theta}$$

$$\text{Id. del sector } AOBC: \xi = \frac{2}{3} r \frac{\text{sen}\theta}{\theta}$$

$$\text{Id. del segmento } ABC: \xi = \frac{4}{3} r \frac{\text{sen}^3\theta}{2\theta - \text{sen}^2\theta}$$

### Segmento de parábola

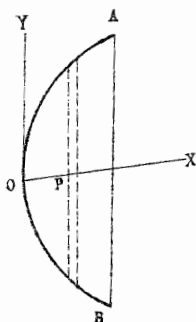
Sea (fig. 49) un segmento de parábola  $AOB$ ; referimos la curva a dos ejes  $OX, OY$ , tales que  $OX$  sea paralela a la cuerda  $AB$  i que  $OY$  sea el diámetro conjugado; respecto de estos ejes la ecuacion de la parábola tiene la forma

$$y^2 = Kx$$

El centro de gravedad estará situado sobre el diámetro  $OY$ ; consideremos un elemento de área comprendido entre dos cuerdas infinitamente próximas paralelas a  $OY$ , la masa de este elemento será proporcional a  $y dx$  i su centro de gravedad  $P$  estará sobre  $OX$ ; se trata de buscar el centro de gravedad de los puntos análogos a  $P$  situados sobre  $OX$ . Sea  $a$  la abcisa de la cuerda  $AB$  i  $\xi$  la abcisa del centro de gravedad, se tendrá

$$\xi = \frac{\int_0^a xy dx}{\int_0^a y dx}$$

Fig. 49



O bien, sustituyendo a  $y$  su valor

$$\xi = \frac{\sqrt{k} \int_0^a x^{\frac{3}{2}} dx}{\sqrt{k} \int_0^a x^{\frac{1}{2}} dx} = \frac{3}{5} a$$

### Teoremas de Guldin

1. *El área de la superficie de revolución, enjestrada por una curva plana que gira al rededor de un eje situado en su plano, es igual al producto de la longitud de la curva por la circunferencia que describe su centro de gravedad.*

En efecto, un elemento  $ds$  de la curva, cuya distancia al eje es  $x$ , enjendra una área igual a  $2\pi x ds$ ; luego el área total  $A$  enjestrada por el arco considerado es

$$A = 2\pi \int x ds$$

Por otra parte, sea  $\xi$  la distancia del centro de gravedad, al eje de rotación i  $s$  la longitud total del arco; se tiene

$$\xi = \frac{\sum x ds}{s} = \frac{\int x ds}{s}$$

Luego

$$A = 2\pi \sum x ds$$

Lo que demuestra el teorema.

### Aplicaciones

1.º Consideremos una circunferencia de radio  $r$ , cuyo centro está a una distancia  $a$  del eje de rotación, el área enjestrada será el área de un toro i su valor es

$$2\pi r \times 2\pi a = 4\pi^2 ar$$

2.º Busquemos el área enjestrada por un arco de circunfe-



rencia que jira al rededor de un diámetro paralelo a su cuerda; se tiene en este caso

$$\xi = \frac{r c}{s}$$

Luego

$$A = 2 \pi r c$$

Si el arco es igual a una media circunferencia,  $c$  es igual a  $2 \pi$  se tiene

$$A = 4 \pi r^2$$

3.º El área enjendada por una cicloide que jira al rededor de su base será

$$A = 2 \pi \times \frac{4}{3} r \times 8 r = \frac{64}{3} \pi r^2$$

II. *El volúmen enjendrado por una área plana que jira al rededor de un eje situado en su plano, es igual al producto del área por la circunferencia que describe su centro de gravedad.*

En efecto, un elemento de área  $d \omega$  cuya distancia al eje de rotacion es  $x$  enjendra un volúmen igual a  $2 \pi x d \omega$ , luego si  $V$  es el volúmen total se tiene

$$V = 2 \pi \int x d \omega$$

Sea, por otra parte,  $\xi$  la distancia al eje del centro de gravedad del área, i  $\Omega$  el área total, se tiene

$$\xi = \frac{\sum x d \omega}{\Omega} = \frac{\int x d \omega}{\Omega}$$

Luego

$$V = 2 \pi \xi \Omega$$

Lo que demuestra el teorema.

*Aplicaciones*

1.º El volúmen del toro considerado mas arriba es

$$\pi r^2 \times 2 \pi a = 2 \pi^2 r^2 a$$

2.º Busquemos el volúmen enjandrado por un sector circular que jira al rededor de un diámetro paralelo a la cuerda, se tendrá

$$\xi = \frac{2}{3} \frac{r c}{s}$$

$$\Omega = \frac{1}{2} r s$$

Luego

$$V = \frac{2}{3} \pi r^2 c$$

Si el arco del sector es igual a una media circunferencia,  $c$  es igual a  $2 r$ , entónces

$$V = \frac{4}{3} \pi r^3$$

3.º El volúmen enjandrado por una cicloide que jira al rededor de su base es

$$V = 2 \pi \cdot \frac{5}{8} r \times 3 \pi r^2 = 5 \pi^2 r^3$$

## CENTRO DE GRAVEDAD DE LOS VOLÚMENES

Sea  $dw$  un elemento de volúmen de un cuerpo;  $x, y, z$  sus coordenadas i  $\rho$  la densidad en este punto, se tendrá para la coordenada  $\xi$  del centro de gravedad

$$\xi = \frac{\sum m x}{M} = \frac{\sum \rho x dw}{\sum \rho dw}$$

Si el cuerpo es homogéneo i, si  $V$  es su volúmen total, la fórmula anterior se reduce a

$$\xi = \frac{\sum xdw}{V}$$

Supongamos que todas las secciones hechas en un cuerpo por planos paralelos a cierto plano fijo, tengan el centro de gravedad de su área situado sobre cierta recta determinada, el centro de gravedad del volúmen estará también sobre esta recta.

En efecto, en este caso, el centro de gravedad del volúmen comprendido entre dos planos paralelos infinitamente próximos estará situado sobre la recta o a una distancia infinitamente pequeña de ella, luego en el límite, el centro de gravedad del cuerpo es el centro de gravedad de la recta, sobre la cual se supone concentrada toda la masa del cuerpo. Este resultado demuestra el teorema.

NOTA.—Si en un cuerpo existen varias rectas gozando de la misma propiedad, todas ellas deben concurrir en un mismo punto que es entónces el centro de gravedad del cuerpo.

### *Centro de gravedad del tetraedro*

Unamos un vértice con el centro de gravedad de la cara opuesta, esta recta será el lugar geométrico de los centros de gravedad de todas las secciones paralelas a la cara considerada, luego el centro de gravedad del tetraedro está sobre esta recta.

Por la misma razón, el centro de gravedad estará sobre cada una de las rectas que une un vértice con el centro de gravedad de la cara opuesta, luego las cuatro rectas así definidas se cortan en un mismo punto, i éste es precisamente el centro de gravedad del tetraedro.

Se demuestra en geometría que efectivamente, estas cuatro rectas se cortan en un mismo punto  $G$  i que el punto  $G$  se encuentra en la cuarta parte de cada una de ellas, a partir de la cara correspondiente.

Se averigua ahora que el centro de gravedad del tetraedro es

tambien el centro de gravedad de cuatro puntos de misma masa, situados en los cuatro vértices.

De ahí se deduce que el centro de gravedad del tetraedro se encuentra tambien en el medio de la recta que une los puntos medios de dos aristas opuestas cualesquiera.

### *Centro de gravedad de un sector esférico*

El sector esférico puede ser considerado como la reunion de una infinidad de tetraedos iguales e infinitamente delgados, cuyo vértice comun es el centro de la esfera. El centro de gravedad de cada tetraedro es a una distancia del centro igual a  $\frac{3}{4}r$ , luego, en el límite, el centro de gravedad del sector será el de un casquete esférico cuyo radio es  $r' = \frac{3}{4}r$ .

Si se corta el casquete esférico por planos paralelos a la base i a distancia constante e infinitamente pequeña  $dx$  unos de otros, el centro de gravedad del área comprendido entre dos planos será situado sobre el radio perpendicular a la base i la masa concentrada sobre el elemento  $dx$  de este radio será proporcional á  $dx$ , puesto que el área de la porcion de esfera comprendida entre los dos planos es  $2\pi r' dx$ ; finalmente el centro de gravedad del casquete esférico está en el medio de la porcion del radio, perpendicular a la base comprendido entre la base i el vértice del casquete.

A. OBRECHT.

*(Continuará).*

